



PHÒNG GIÁO DỤC VÀ ĐÀO TẠO
ỦY BAN NHÂN DÂN THÀNH PHỐ HẢI DƯƠNG
TRƯỜNG TIỂU HỌC TÂN BÌNH
ĐỊA CHỈ: KHU ĐÔ THỊ AN PHÚ, P. TÂN BÌNH, TP. HẢI DƯƠNG ĐIỆN THOẠI: 03203 898 986

**NHIỆT LIỆT CHÀO MỪNG CÁC VỊ ĐẠI BIỂU, CÁC THẦY GIÁO, CÔ GIÁO VỀ DỰ
HỘI THI GIÁO VIÊN DẠY GIỎI CẤP TIỂU HỌC THÀNH PHỐ HẢI DƯƠNG, NĂM HỌC 2022 - 2023**

QR code and text on the left pillar sign.

ĐỀ NGHỊ
PHỤ HUYNH ĐÓN HỌC SINH
NGOÀI CÔNG TRƯỜNG
KHÔNG BỊ XE ĐẠP - XE MÁY
THÔNG SÁM TRƯỜNG



Chọn phương án Đ/S

$$8 \times (7 + 3) = \del{59} \quad \boxed{S}$$

Hết
giờ

Chọn đáp án đúng?

$$(92 + 8) \times 5 = ?$$

A. 132

C. 500

B. 100

D. 468



Các con hãy bộc lộ cảm xúc?

$$8 \times 7 + 8 \times 3 = 8 \times (7 + 3)$$



Hết
giờ



PHÒNG GIÁO DỤC VÀ ĐÀO TẠO
ỦY BAN NHÂN DÂN THÀNH PHỐ HẢI DƯƠNG
TRƯỜNG TIỂU HỌC TÂN BÌNH
ĐỊA CHỈ: KHU ĐÔ THỊ AN PHÚ, P. TÂN BÌNH, TP. HẢI DƯƠNG ĐIỆN THOẠI: 03203 898 986

**NHIỆT LIỆT CHÀO MỪNG CÁC VỊ ĐẠI BIỂU, CÁC THẦY GIÁO, CÔ GIÁO VỀ DỰ
HỘI THI GIÁO VIÊN DẠY GIỎI CẤP TIỂU HỌC THÀNH PHỐ HẢI DƯƠNG, NĂM HỌC 2022 - 2023**


QR code and small text on the left pillar.

ĐỀ NGHỊ
PHỤ HUYNH ĐÓN HỌC SINH
NGOÀI CỘNG TRƯỜNG
KHÔNG ĐÓN XE ĐẠP - XE MÁY
TRONG SÂN TRƯỜNG



XE BUS CHỖ HỌC SINH

TRƯỜNG TIỂU HỌC TÂN BÌNH



$$8 \times (7 + 3) = ?$$

$$\begin{array}{l} \mathbf{8 \times (7 - 3) = 8 \times 4} \\ \mathbf{= 32} \end{array} \quad \left| \quad \begin{array}{l} \mathbf{8 \times (7 - 3) = 8 \times 7 - 8 \times 3} \\ \mathbf{= 56 - 24} \\ \mathbf{= 32} \end{array}$$

=

$$8 \times (7 - 3) = 8 \times 7 - 8 \times 3$$

Khi nhân một số với một hiệu, ta có thể lần lượt nhân số đó với số bị trừ và số trừ, rồi trừ hai kết quả cho nhau.

$$8 \times (7 - 3) = 8 \times 7 - 8 \times 3$$



$$a \times (b - c) = a \times b - a \times c$$



Cửa số 1: Soát vé
Gate 1: Check ticket

**Tính giá trị của biểu thức rồi
viết vào ô trống (theo mẫu)**





Air Company

BOARDING PASS

BOARDING PASS

a	b	c	$a \times (b - c)$	$a \times b - a \times c$
3	7	3	$3 \times (7 - 3) = 12$	$3 \times 7 - 3 \times 3 = 12$
6	9	5	$6 \times (9 - 5) = 24$	$6 \times 9 - 6 \times 5 = 24$
8	5	2	$8 \times (5 - 2) = 24$	$8 \times 5 - 8 \times 2 = 24$

Cửa số 2: An ninh
Gate 2: Security

**Áp dụng tính chất nhân một số
với một hiệu để tính (theo mẫu)**



$$\begin{aligned} 26 \times 9 &= 26 \times (10 - 1) \\ &= 26 \times 10 - 26 \times 1 \\ &= 234 \end{aligned}$$

Áp dụng tính chất nhân một số với một hiệu để tính(theo mẫu):

$$138 \times 9$$

$$24 \times 99$$

Phòng chờ Waiting room





Danisa
TRADITIONAL
BUTTER COOKIES

Danisa
TRADITIONAL
BUTTER COOKIES

Danisa
TRADITIONAL
BUTTER COOKIES

Danisa
TRADITIONAL
BUTTER COOKIES

Danisa
TRADITIONAL
BUTTER COOKIES

Danisa
TRADITIONAL
BUTTER COOKIES

Danisa
TRADITIONAL
BUTTER COOKIES

Danisa
TRADITIONAL
BUTTER COOKIES

Danisa
TRADITIONAL
BUTTER COOKIES

Danisa
TRADITIONAL
BUTTER COOKIES

Danisa
TRADITIONAL
BUTTER COOKIES

Danisa
TRADITIONAL
BUTTER COOKIES

Danisa
TRADITIONAL
BUTTER COOKIES

Danisa
TRADITIONAL
BUTTER COOKIES

TikTok
@nivanle

Quầy hàng có 40 hộp bánh, mỗi hộp có 175 cái bánh. Cô đã bán 10 hộp bánh. Hỏi cửa hàng còn lại bao nhiêu cái bánh?

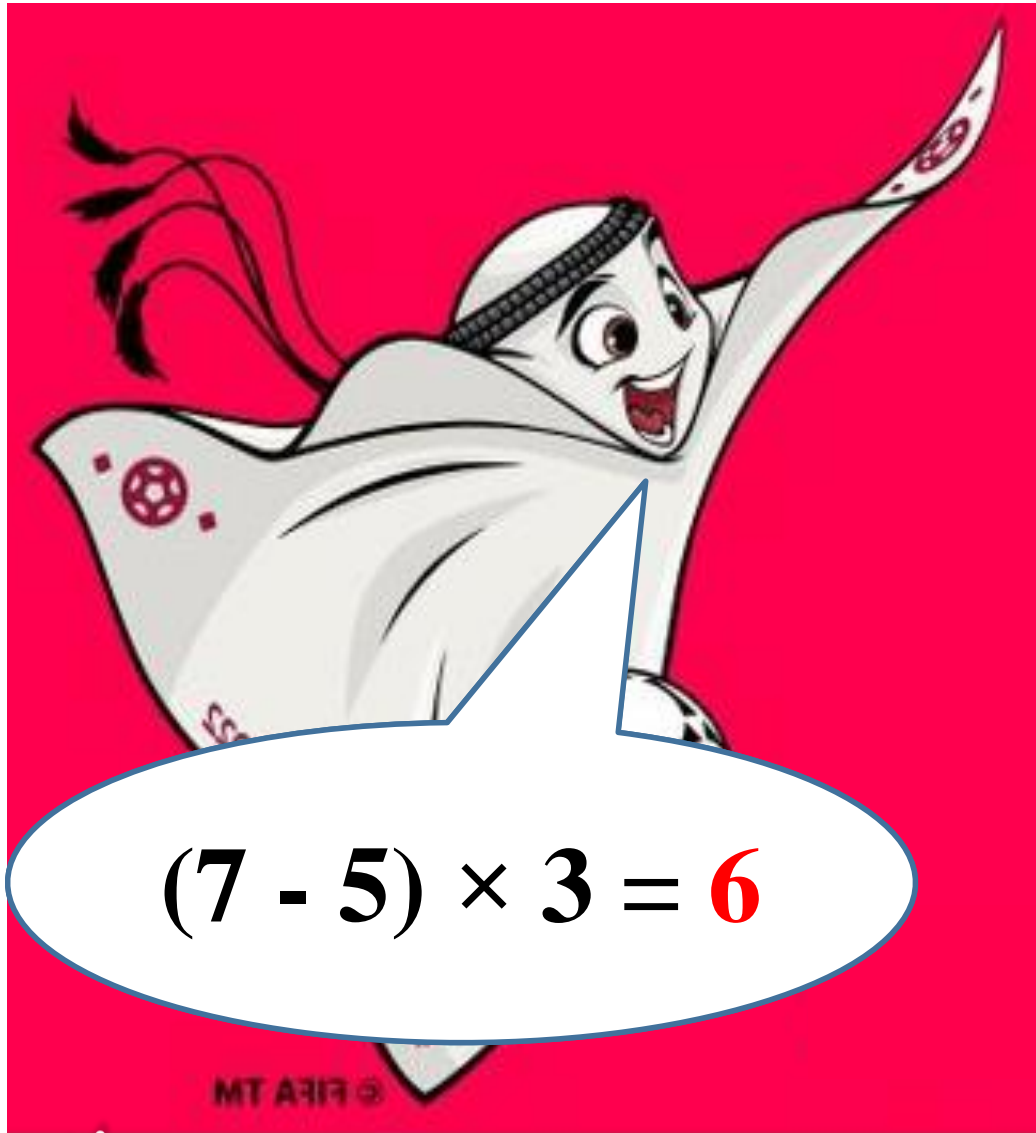
Tóm tắt:

Có : 40 hộp bánh.


1 hộp bánh: 175 cái bánh.

Bán: 10 hộp bánh.

Còn: ? cái bánh.



$$(7 - 5) \times 3 = 6$$



$$7 \times 3 - 5 \times 3 = 6$$





$$(7 - 5) \times 3 = 7 \times 3 - 5 \times 3$$



FIFA WORLD CUP
QATAR
2022



Q FEDERATION ASSOCIATION